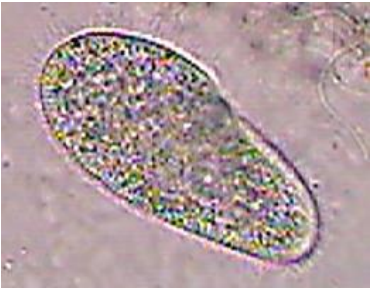

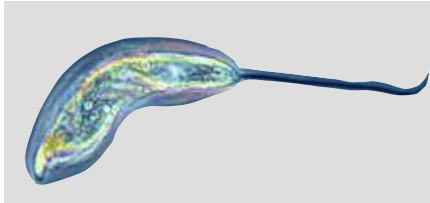




Einzeller – (Arbeite mit Bleistift.)

1.	Name des Einzellers:	deutsch:		Art der Fortbewegung:
		lateinisch:		
	Gruppe solcher Einzeller:	deutsch:		
		lateinisch:		
				
				Bei 100-facher Vergrößerung = 20 mm
				Reale Größe in µm?
Zeichne eine einfache Skizze und beschrifte nur die Struktur für die Fortbewegung.				
2.	Name des Einzellers:	deutsch:		Art der Fortbewegung:
		lateinisch:		
	Gruppe solcher Einzeller:	deutsch:		
		lateinisch:		
				
				Bei 50-facher Vergrößerung = 20 mm
				Reale Größe in µm?
Zeichne eine einfache Skizze und beschrifte nur die Struktur für die Fortbewegung.				
3.	Name des Einzellers:	deutsch:		Art der Fortbewegung:
		lateinisch:		
	Gruppe solcher Einzeller:	deutsch:		
		lateinisch:		
				
				Bei 400-facher Vergrößerung = 24 mm
				Reale Größe in µm?
Zeichne eine einfache Skizze und beschrifte nur die Struktur für die Fortbewegung.				